

## VZOROVÝ TEST

Toto je vzorový test, kde najdete typové úlohy na Srovnávací testy mládeže. Vyzkoušejte si, co vás může čekat.

Připravili: Kubátová, Pícek, Pícková

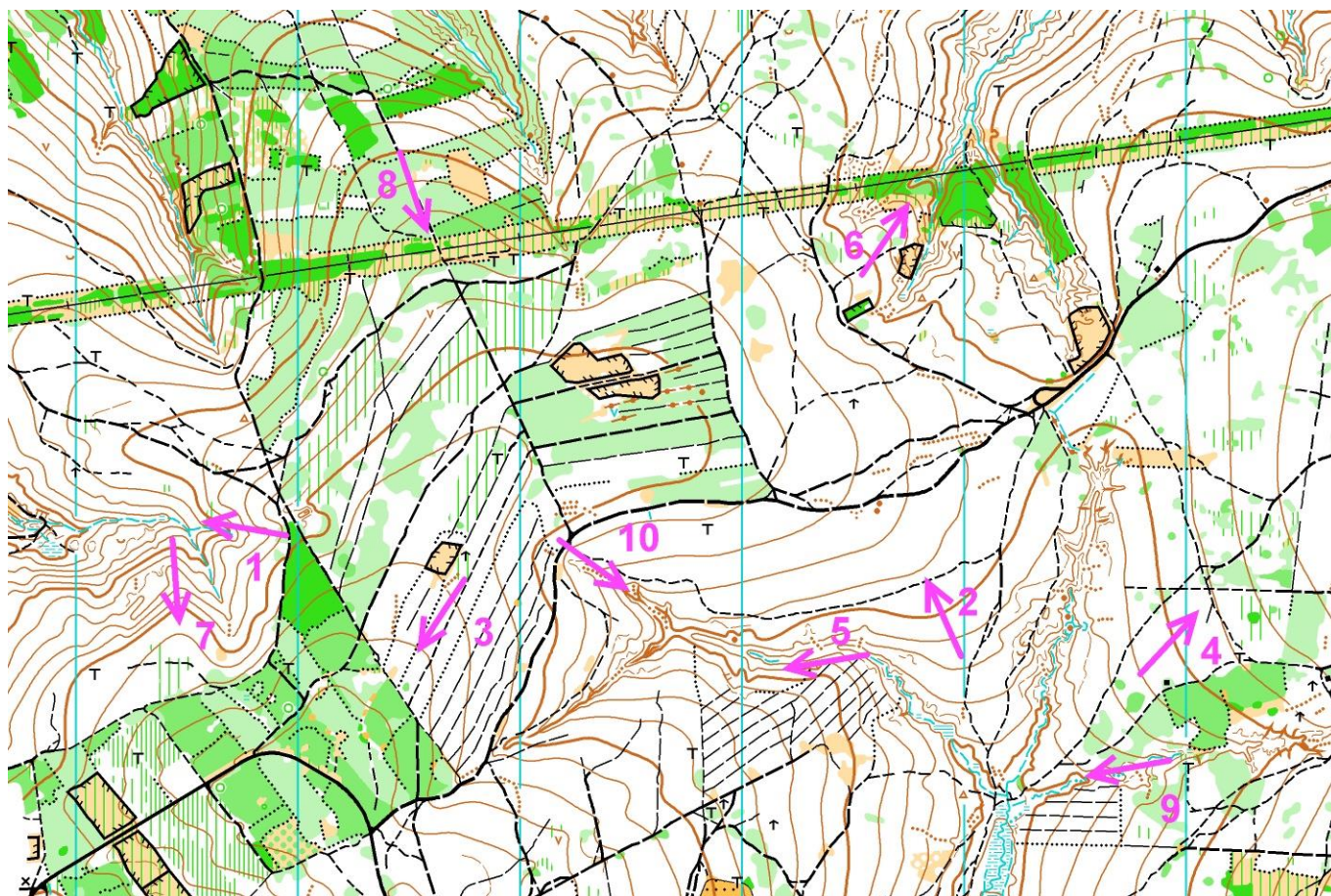
Děkujeme za poskytnutí mapových podkladů CTB, TJN, TZL, VCB

### TEST číslo 1

V následujícím testu bude vaším úkolem určit, kterým směrem vedou šipky vyznačené na mapě. Všechny šipky vedou vždy třemi možnými směry:

1. do kopce – vyznačujte do řešení – ↑
2. z kopce – vyznačujte do řešení – ↓
3. po rovině – vyznačujte do řešení – →

### Štákové paseky (TZL)



1	2	3	4	5	6	7	8	9	10

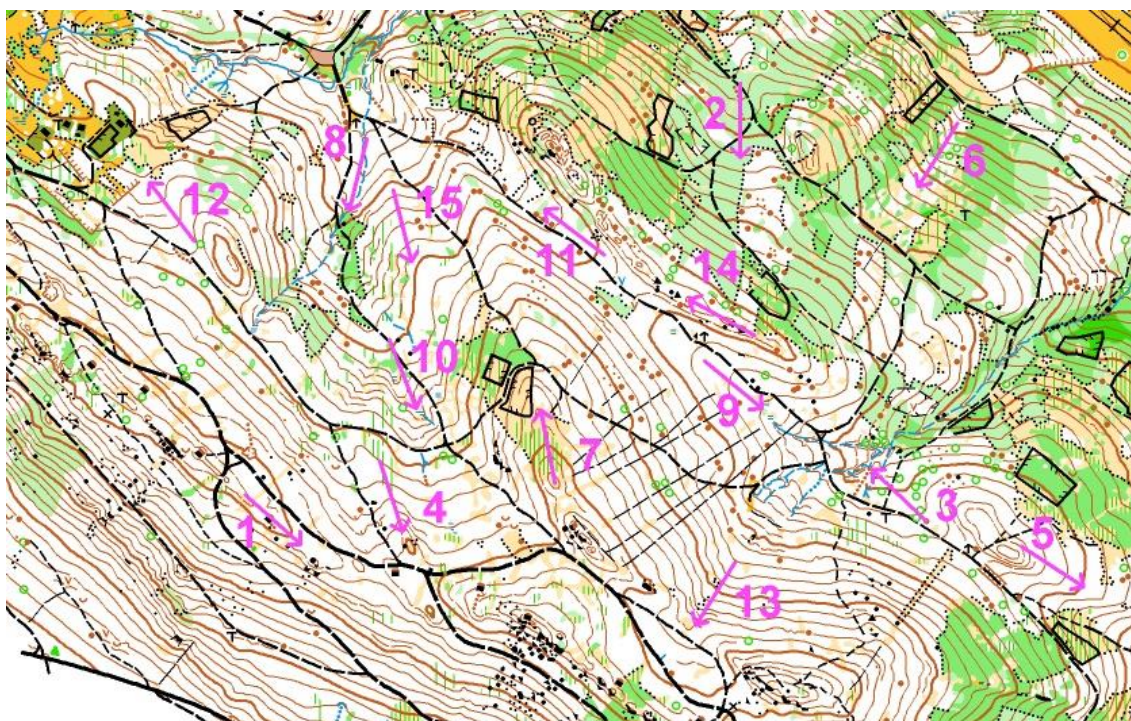


Stiozza Ritaglio (ITA)



1	2	3	4	5	6	7	8	9	10

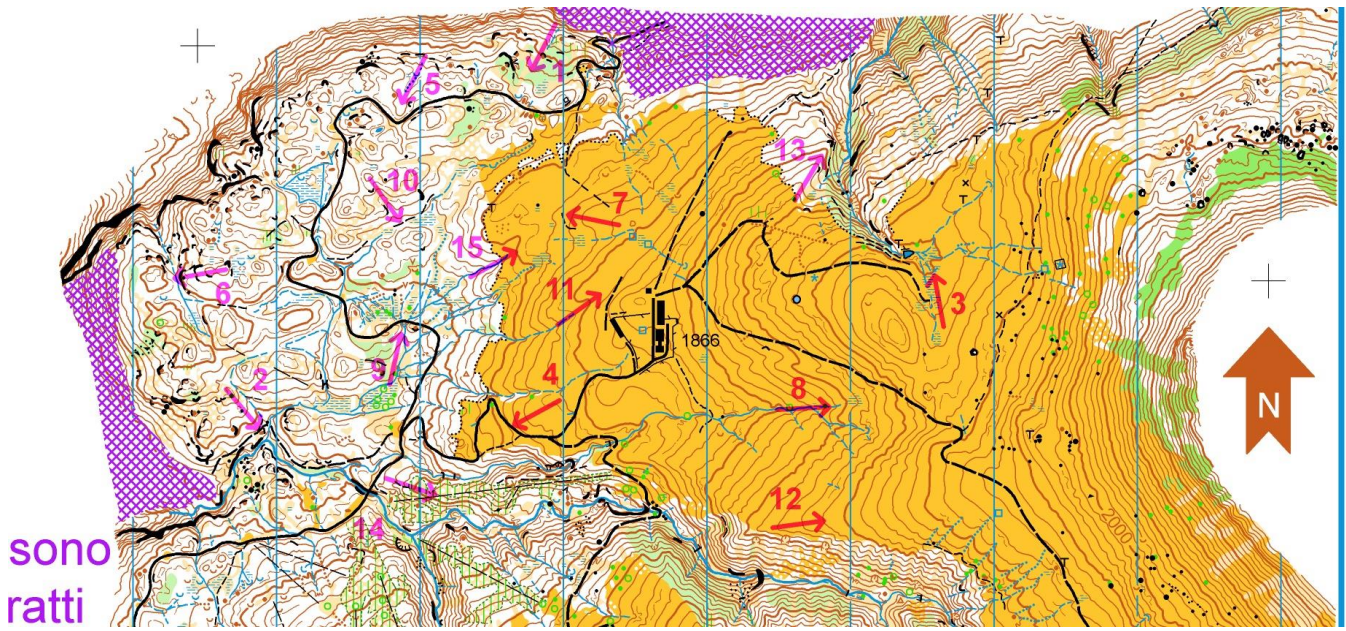
Žaltman (PHK)



1	2	3	4	5	6	7	8	9	10
11	12	13	14	15					



Rolle Ritaglio (ITA)

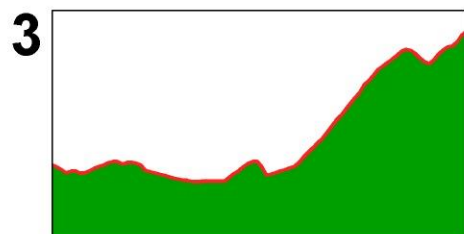
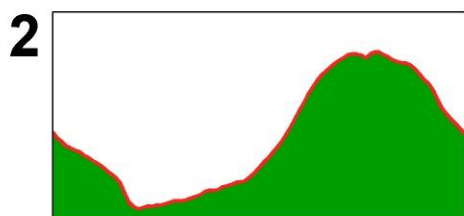
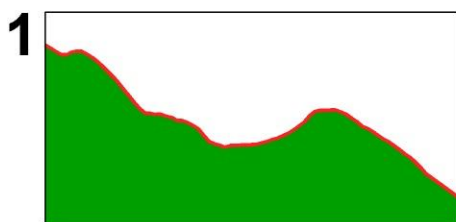
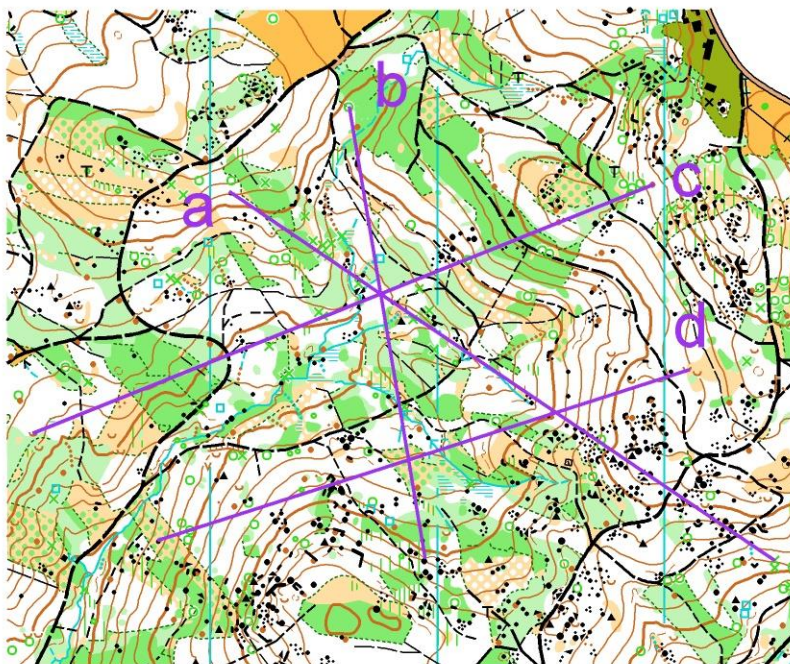


1	2	3	4	5	6	7	8	9	10
11	12	13	14	15					

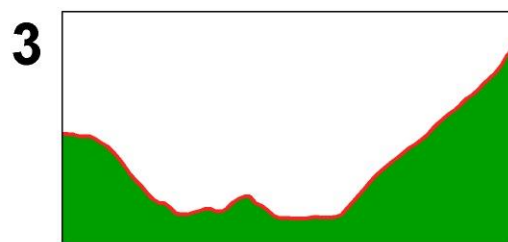
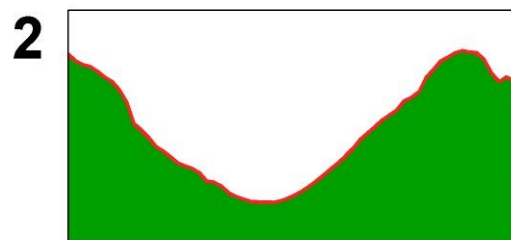
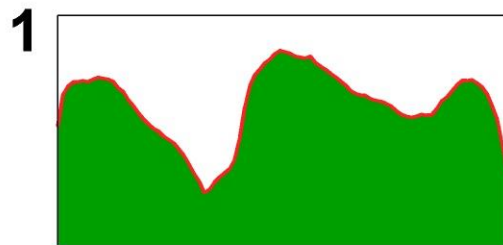
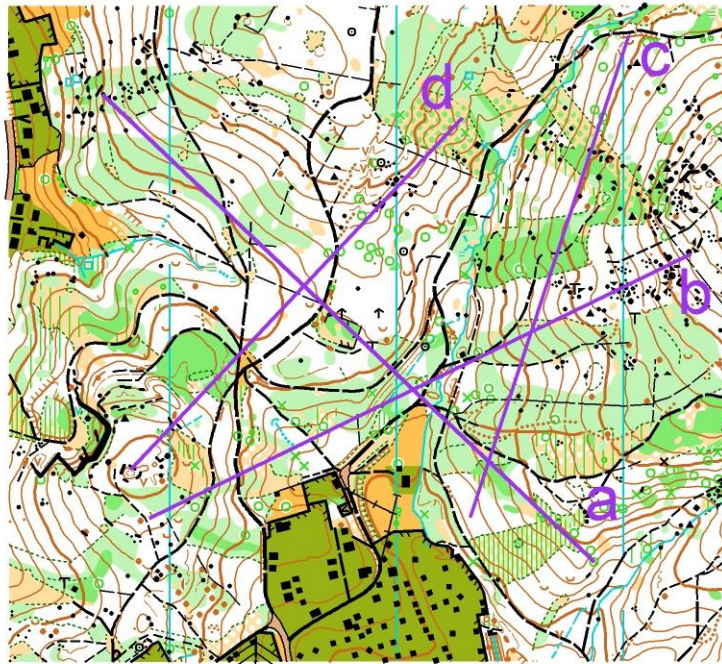
## TEST číslo 2

V následujícím testu bude vaším úkolem přiřadit k uvedeným výškovým profilům úsečku nakreslenou v mapě. V zadání máte vždy 3 profily a v mapě 4 úsečky. Do řešení zapisujete písmena, která jednotlivé úsečky označují. Není definováno, z které strany úsečky výškový profil začíná, a tedy musíte vyzkoušet obě možnosti začátku u každého profilu.

Všechny profily na mapě Břízky (TJN)

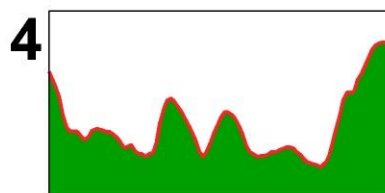
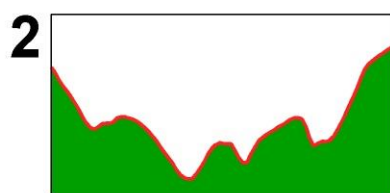
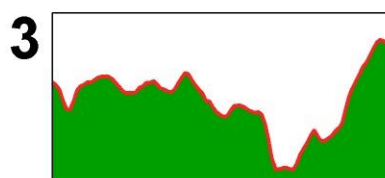
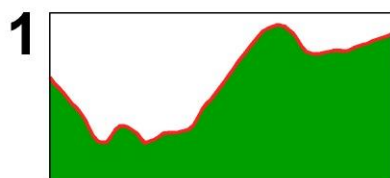
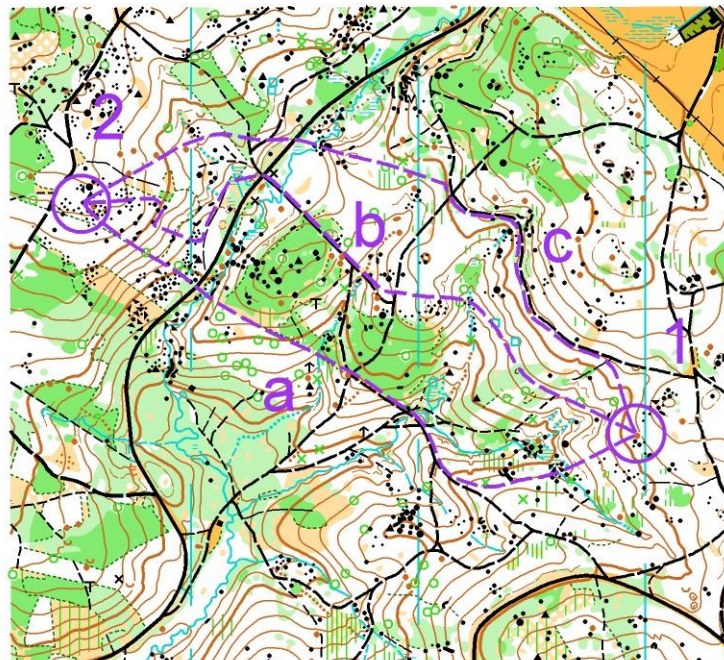


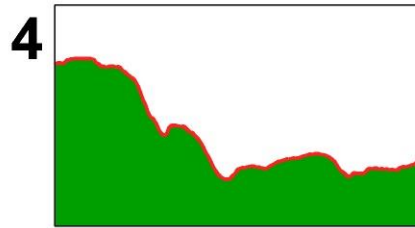
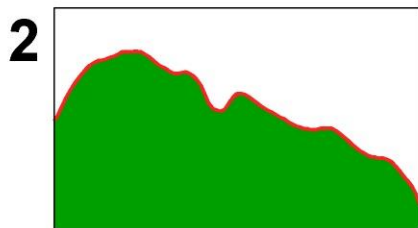
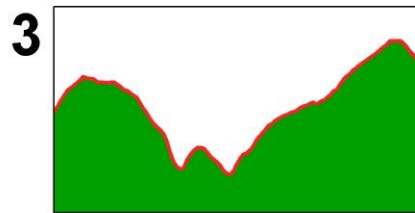
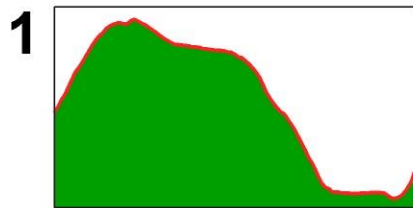
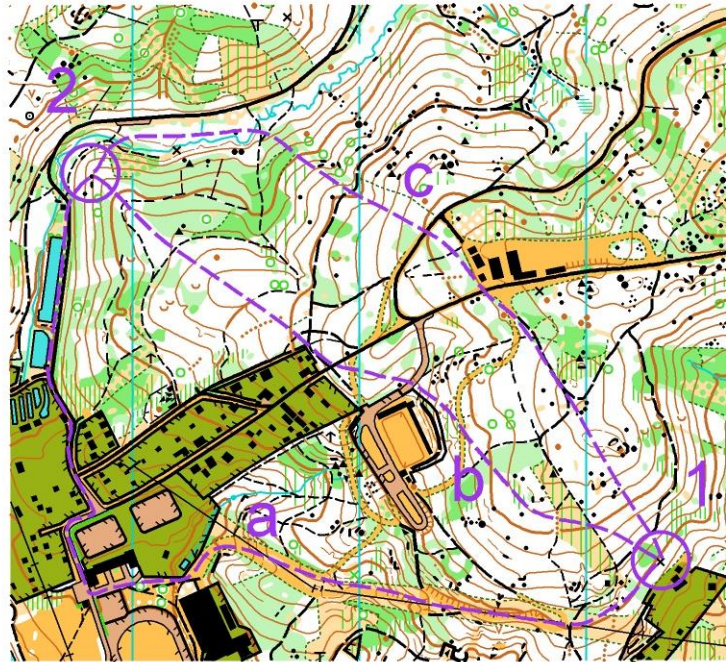




### TEST číslo 3

V následujícím testu bude vaším úkolem přiřadit k postupům nakresleným v mapě mezi kontrolami 1 a 2, příslušný výškový profil. V zadání máte vždy 4 profily a 3 postupy v mapě 4. Do řešení zapisujte číslo, které označuje jednotlivé profily. Výškový profil vždy začíná u kontroly 1 a končí u kontroly 2. každého profilu.







#### TEST číslo 4

V následujícím testu bude vaším úkolem nalézt nejkratší postup mezi kontrolami 1 a 2 na sprintové mapě. Nehledáte optimální, ale NEJKRATŠÍ postup. V každé mapě máte nakreslené 3 postupy a do řešení zapisujete písmeno toho postupu, který je podle vás nejkratší.



Doksy (ČSOS)



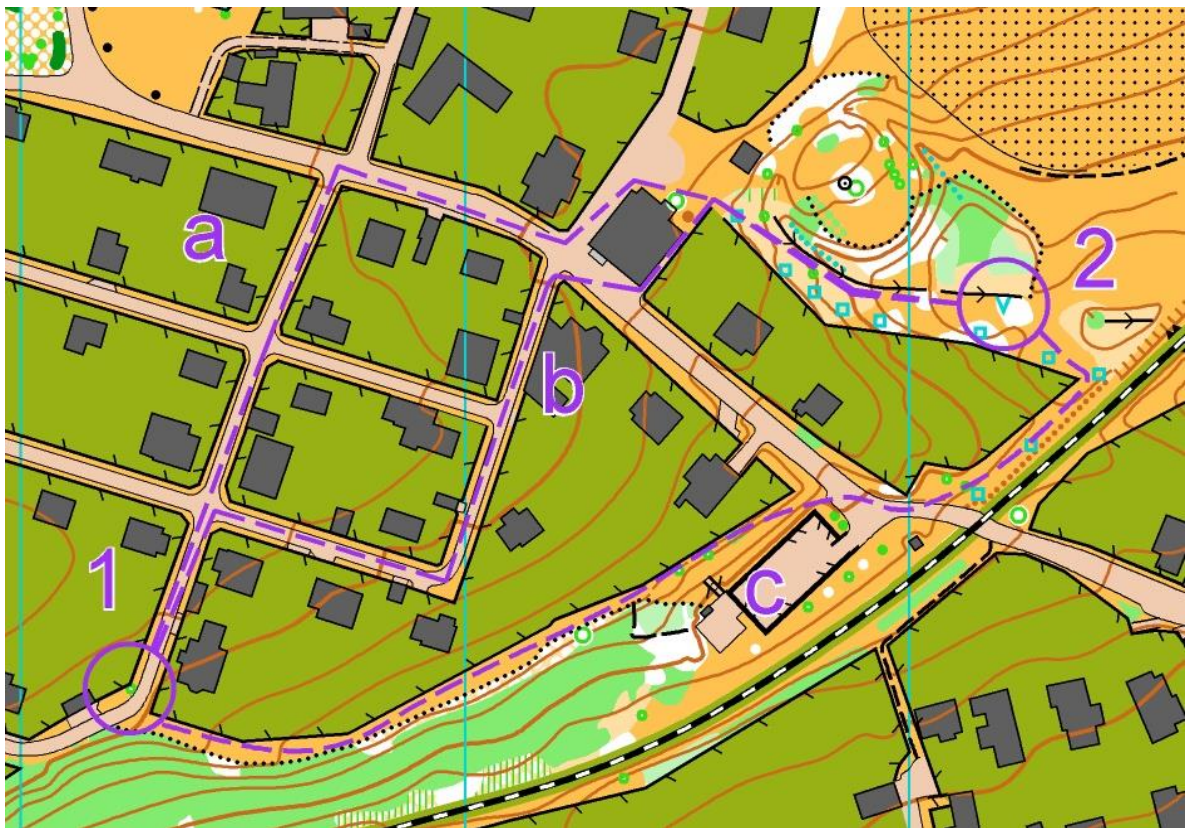
Trhové Sviny (VCB)



TEST číslo 4



Spytihněv (TZL)



Sobiňov (CTB)

# Řešení

## TEST číslo 1

Ohoz (SRK)

1	2	3	4	5	6	7	8	9	10
Ú	H	H	H	Ú	H	H	H	Ú	Ú
↓	↑	↑	↑	↑	↓	↑	↑	↓	↓

Stiozza Ritaglio (ITA)

1	2	3	4	5	6	7	8	9	10
Ú	Ú	Ú	Ú	H	H	H	H	Ú	H
↑	↑	↓	↑	↑	↓	↓	↑	↓	↓

Žaltman (PHK)

1	2	3	4	5	6	7	8	9	10
H	Ú	Ú	H	H	Ú	H	Ú	Ú	Ú
↓	↑	↓	↑	↓	↑	↓	↑	↓	↑
11	12	13	14	15					
Ú	Ú	Ú	H	H					
↓	↓	↑	↑	↑					

Rolle Ritaglio (ITA)

1	2	3	4	5	6	7	8	9	10
Ú	H	Ú	H	Ú	H	H	Ú	Ú	Ú
↑	↓	↓	↓	↑	↓	↓	↑	↑	↓
11	12	13	14	15					
Ú	H	H	H	Ú					
↑	↑	↓	↑	↑					

## TEST číslo 2

**1**

1-D

2-A

3-C

**2**

1-A

2-D

3-B

## TEST číslo 3

**1**

2-A

4-B

3-C



TEST číslo 4

