















Piktogramy 1

Úkol 1: Napiš, co zobrazuje daný piktogram.

Úkol 2: Nakresli popsany piktogram.

	potrubí (bobová dráha)		posed
	balvanové pole		hranice vegetace
	pramen		tunel
	zeď (kamenná)		úzká bažinka
	hustník		údolíčko
	lom		kupka
	úzký (skalní) průchod		skupina stromů